

Prefeitura Municipal de BOMBINHAS - SC
Processo Seletivo Simplificado 003/2014

PROVA DE CONTADOR

INSTRUÇÕES

1. Aguarde autorização para abrir o caderno de provas.
2. Escreva, abaixo, seu número de inscrição.
3. A interpretação das questões é parte do processo de avaliação, não sendo permitidas perguntas aos Aplicadores de Prova.
4. Nesta prova, as questões são de *Múltipla Escolha* com quatro alternativas cada uma, das quais somente uma é a correta.
5. Ao receber o cartão-resposta, examine, e assine-o.
6. Transcreva para o cartão-resposta o resultado que julgar correto em cada questão, preenchendo completamente o espaço correspondente, à caneta com tinta azul-escura ou preta.
7. No cartão-resposta, marcação de mais de uma alternativa em uma mesma questão, rasuras e preenchimento além dos limites do espaço destinado para cada marcação, anularão a questão.
8. Não haverá substituição do cartão-resposta por erro de preenchimento.
9. Não serão permitidas consultas, empréstimos e comunicação entre candidatos, bem como o uso de livros, apontamentos e equipamentos eletrônicos. O não cumprimento dessas exigências implicará a exclusão do candidato.
10. Ao concluir a prova, permaneça em seu lugar e comunique ao fiscal. Aguarde autorização para devolver o cartão-resposta.
11. O tempo para o preenchimento do cartão-resposta está contido na duração desta prova.

DURAÇÃO DESTA PROVA: 3 HORAS

Língua
Portuguesa

Matemática

**Conhecimentos
Gerais**

**Conhecimentos
Específicos**

NÚMERO DE INSCRIÇÃO:

CRONOGRAMA PREVISTO

Atividade	Data	Local
Divulgação do Gabarito Provisório	16/06/2014	www.bombinhas.sc.gov.br e Mural da Prefeitura Municipal
Interposição de recursos ao Gabarito Provisório	17 e 18/06/2014	Protocolo da Prefeitura Municipal
Divulgação do Gabarito Oficial	23/06/2014	www.bombinhas.sc.gov.br e Mural da Prefeitura Municipal

Língua Portuguesa

TEXTO I - Responda as questões 1, 2 e 3 com base no texto abaixo:

O projeto “Música na Escola” visa desenvolver o gosto pela arte e a autoestima dos estudantes matriculados na Escola Básica Municipal Edith Willecke, no Bairro do Canto Grande. O projeto, iniciado em 2013, hoje atende a 110 estudantes de 6º ao 9º anos, do Ensino Fundamental. Em 2014, com o incentivo da Secretaria de Educação, foram comprados vários instrumentos musicais como flauta doce, violão e instrumentos de percussão.

(Fonte: Site da Prefeitura Municipal de Bombinhas, acesso em 15 junho de 2014, adaptado)

QUESTÃO 1

Segundo o texto o podemos inferir que é:

- a) O Objetivo texto é vender vagas nos cursos de música que são objeto do projeto.
- b) Que os 110 estudantes que participam do projeto podem ter aumentada sua autoestima.
- c) Que a Secretaria de Educação apoiou o projeto ao comprar os instrumentos em 2013.
- d) Que os todos os estudantes do Ensino Fundamental são beneficiados no Projeto.

QUESTÃO 2

Segundo o Texto I podemos afirmar que:

- a) Somente que adquire o gosto pela arte pode ter autoestima.
- b) Que o projeto atende a estudantes de várias escolas.
- c) A professora Edith Willecke é a autora do Projeto Música na Escola.
- d) Que os citados são alguns exemplos e pode-se inferir, pelo texto, que outros também foram comprados.

QUESTÃO 3

A Função da linguagem presente no texto I é

- a) conativa
- b) emotiva
- c) referencial
- d) poética

TEXTO II - Responda as questões 4 e 5 com base no texto abaixo:

Neste ambiente você terá acesso aos dados e informações decorrentes da gestão municipal, de forma clara, objetiva e simplificada. Além de navegar pelas informações já apresentadas, também é possível solicitar aquelas que desejar. (Fonte: Site da Prefeitura de Bombinhas, Portal da Transparência acesso em 15 junho de 2014, adaptado)



QUESTÃO 4

O texto acima mostra a entrada do site de internet do Portal da Transparência da Prefeitura de Bombinhas. Depois de ler o texto e ver a foto podemos afirmar que:

- a) Que a gestão municipal deseja mostrar suas contas para serem fiscalizadas por todos os cidadãos.
- b) Que a mensagem diz que o site aumenta as letras da tela.
- c) A palavra transparência neste texto assume o significado de translucido.
- d) Que a transparência pública é ruim pois dificulta a gestão administrativa

QUESTÃO 5

Na frase “**Além** de navegar pelas informações já apresentadas, **também** é possível solicitar aquelas [informações] que desejar”, as palavras ALÉM e TAMBÉM dão a entender que:

- a) Somente é possível navegar pelas informações se pedir autorização.
- b) São termos restritivos e indicam condição de causa e consequência
- c) São termos aditivos que dão liberdade de decisão nas ações de navegar e solicitar
- d) O site não possui acessibilidade de informação.

QUESTÃO 6

As palavras da expressão TRANSPARÊNCIA PÚBLICA tem como regras de acentuação, respectivamente:

- a) Proparoxítona e Proparoxítona.
- b) Oxítona terminada em ditongo crescente e paroxitona 8 sílabas.
- c) Paroxítona e Proparoxítona 7 sílabas.
- d) Paroxítonas termina das em vogal

Responda as questões 7, 8 e 9 com base no texto e na foto abaixo



Bombinhas é um município do litoral de Santa Catarina, segundo estado mais procurado por estrangeiros. Com águas calmas e transparentes, Bombinhas, está entre os destinos mais belos do país. É a capital do mergulho ecológico e abriga grande diversidade de fauna e flora, lindas ilhas e praias em contraste com o verde da Mata Atlântica. (Fonte: Site da Prefeitura de Bombinhas, O Município - acesso em 15 junho de 2014, adaptado)

QUESTÃO 7

A foto e o texto mostrado acima tem como tema principal:

- a) Exaltar as belezas da cidade e incentivar o turismo no município.
- b) O Grande acesso de Argentinos no município
- c) A necessidade de se organizar um turismo ecológico que preserve a fauna e a flora
- d) Os problemas causado pelo desmatamento feito pelos turistas.

QUESTÃO 8

Leia as Frases:

- I. Segundo o autor a cidade é linda.
- II. Não podemos esperar mais nenhum segundo
- III. Bombinhas é um município do litoral de Santa Catarina, segundo estado mais procurado por estrangeiros.

A palavras **SEGUNDO** aparece com diferentes significados nas frases descritas representa um número ordinal:

- a) I.
- b) II.
- c) III.
- d) I e III

QUESTÃO 9

“Achar a vida leve.” Respectivamente, as palavras que compõe essa sentença são:

- a) verbo – artigo definido – substantivo - adjetivo
- b) verbo – artigo indefinido – substantivo - adjetivo
- c) verbo – artigo indefinido – adjetivo - substantivo
- d) verbo – artigo definido – adjetivo - substantivo

QUESTÃO 10

Um amigo de meu filho disse-lhe que se mudou para perto de um centro comercial. Aí ele falou que estava muito feliz com sua nova vida.

O texto acima encontra-se no:

- a) discurso indireto.
- b) discurso direto.
- c) discurso semi-indireto e direto.
- d) discurso direto e indireto.

MATEMÁTICA

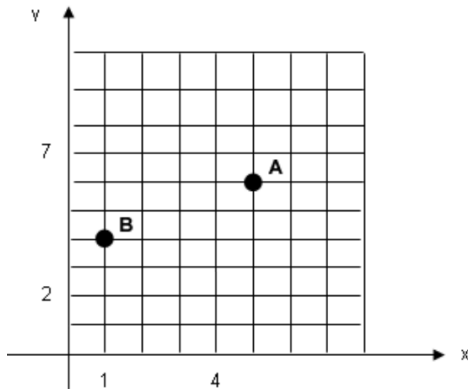
QUESTÃO 11

Durante medição topográfica uma equipe obteve os comprimentos $AO = 8\text{m}$ e $BO = 6\text{m}$. Sabendo que AOB é um ângulo reto o seguimento de reta AB , em metros, é de

- a) 18m
- b) 14m
- c) 10m
- d) 08m

QUESTÃO 12

Observe a figura e assinale a alternativa que indica as coordenadas que representam os pontos A e B do gráfico respectivamente:



- a) (6,5) e (4,2)
- b) (6,5) e (4,1)
- c) (5,6) e (1,4)
- d) (1,4) e (5,6)

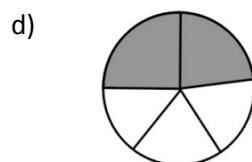
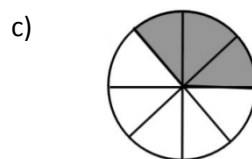
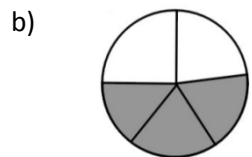
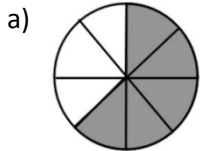
QUESTÃO 13

Sabendo-se que a precisão mínima para a escala 1:500 é igual a 0,1 m, é CORRETO afirmar que a precisão mínima para a escala 1:10000 é igual a

- a) 2,0 m
- b) 1,2 m
- c) 0,8 m
- d) 2,2 m

QUESTÃO 14

Nas imagens a seguir, as áreas escuras são partes tiradas do inteiro. Assinale a alternativa que apresenta a parte escura equivalente a $\frac{3}{5}$ tirados do inteiro

**QUESTÃO 15**

Ao comprar um equipamento eletrônico que custava R\$ 270,00, consegui um desconto de R\$ 21,60. A taxa percentual do desconto foi de:

- a) 6%
- b) 6,5%
- c) 7,25%
- d) 8%

CONHECIMENTOS GERAIS

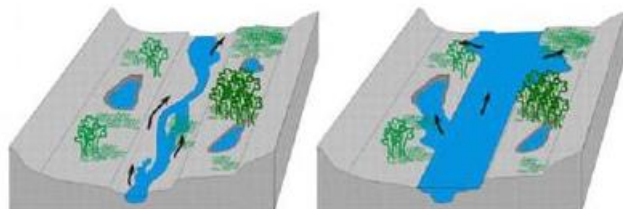
QUESTÃO 16

A história da Copa do Mundo de Futebol da FIFA se iniciou em 1928, durante um congresso da entidade, quando Jules Rimet conseguiu a aprovação para criar um torneio internacional. A primeira competição ocorreu em 1930, tendo a participação de 13 equipes convidadas, tendo o Uruguai como país sede e como campeão. Em 2014 o país sede da Copa do Mundo é o Brasil, localizado na América do Sul. Assinale a alternativa que apresenta outros 3 países que também estão localizados na América do Sul:

- a) Paraguai, China, Equador
- b) Peru, Bolívia, México
- c) Colômbia, Cuba, Venezuela
- d) Bolívia, Argentina, Equador

QUESTÃO 17

São diversos os fenômenos naturais que podem ser intensificados pela ação humana. Um desses fenômenos é a enchente, que passou a ser algo comum em cidades do Brasil. Existem rios, denominados intermitentes, que apresentam como característica a manutenção de água corrente durante todo o período do ano, variando apenas em seu volume de água. Esses rios costumam apresentar dois tipos de leito: um principal (menos volume de água) e um complementar (inundado apenas em período de cheia).



Leito principal

Leito complementar

Eventualmente o nível da água pode ultrapassar o leito complementar provocando as enchentes. O período em que isso ocorre varia de rio para rio. Algumas das causas que provocam enchentes e está relacionada à ação do homem são:

- a) ocupação irregular do espaço geográfico, ineficiência da coleta de lixo, problemas no sistema de drenagem de água.
- b) Muito calor no verão.
- c) Reflorestamento das matas.
- d) Pesca predatória

QUESTÃO 18

A tainha passa a maior parte do seu ciclo de vida dentro de lagoas estuarinas, migrando posteriormente para o mar formando grandes cardumes. Esta migração ocorre na época reprodutiva da espécie, e é principalmente neste momento que ela serve de alimento para várias espécies marinhas, inclusive para o homem. Desta forma, além de ser um importante recurso pesqueiro marinho, sazonal, possui importância para os pescadores artesanais dentro de lagoas, rios e estuários ao longo de todo o ano. Conhecer bem as características comportamentais do processo migratório da espécie é de extrema importância para traçar um plano manejo dos estoques para as grandes safras. Diante disso, assinale a alternativa que apresenta o período de ocorrência da espécie em maior quantidade no litoral sul brasileiro.

- a) Janeiro a Abril
- b) Outubro a Janeiro
- c) Maio a Agosto
- d) Dezembro a Março

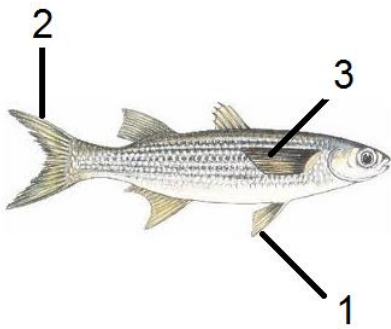
QUESTÃO 19

Com uma região litorânea ampla, Santa Catarina possui diversos pratos típicos baseados no consumo de frutos do mar. Além disso, seus pratos são influenciados pela colonização dos portugueses que consumiam esse tipo de alimento e preparavam em caldos e ensopados. Os peixes também são bastante consumidos pelos moradores e os frutos do mar mais admirados e consumidos são a lagosta, o camarão, as ostras e os mariscos. Já a influência dos alemães, que chegaram à região, foi a de introduzir outros ingredientes, como a carne de porco na cerveja e carne de marreco. Assinale a alternativa que apresenta comidas típicas da Região Sul do País.

- a) Tacacá, Pato no Tucupi, Angu
- b) Acarajé, Tapioca, Mungunzá
- c) Paçoca, Buchada de bode, Feijão Verde
- d) Chimarrão, Churrasco, Tainha

QUESTÃO 20

As **barbatanas** ou **nadadeiras** são estruturas externas que muitos animais aquáticos possuem para auxiliar na natação e equilíbrio. O termo mais correto utilizado é nadadeira, podendo um peixe, por exemplo, apresentar um par de nadadeiras peitorais, um par de nadadeiras pélvicas, uma nadadeira anal, nadadeiras dorsais e a nadadeira caudal. Assinale a alternativa que apresenta a sequência correta das estruturas indicadas na imagem a seguir.



- a) 1- lateral, 2- caudal, 3- pélvica
- b) 1- caudal, 2- lateral, 3- peitoral
- c) 1- pélvica, 2- caudal, 3- lateral
- d) 1- lateral, 2- caudal, 3- lateral

CONHECIMENTOS ESPECÍFICOS

QUESTÃO 21

A Legislação Fiscal (art. 425 RIR/99) determina: “O ganho ou a perda de capital na alienação ou liquidação de investimento será determinado com base no valor contábil”. Em 2006, a Cia. Beta negociou sua participação acionária na Cia. X, apresentando as seguintes informações relativas a essa operação:

Preço de venda R\$ 3.000.000,00
Valor patrimonial R\$ 2.000.000,00
Ágio não amortizado R\$ 200.000,00
Provisão para perdas (R\$ 500.000,00)

Em vista disso, a operação acima gerou para a empresa um(a)

- a) ganho de R\$ 1.500.000,00.
- b) ganho de R\$ 1.300.000,00.
- c) ganho de R\$ 300.000,00.
- d) perda de R\$ 500.000,00.

QUESTÃO 22

Dados extraídos das demonstrações contábeis da Cia. Ômega S/A.

Contas	2005	2006
Caixa	25.000,00	45.000,00
Bancos	105.000,00	155.000,00
Duplicata a Receber	150.000,00	310.000,00
Estoques	200.000,00	350.000,00
Ativo Circulante	480.000,00	860.000,00
Empréstimos a Pagar	75.000,00	100.000,00
Fornecedores	160.000,00	200.000,00
Obrigações tributárias	62.500,00	100.000,00
Obrigações sociais	82.500,00	100.000,00
Passivos Circulantes	380.000,00	500.000,00

Com base nos dados acima, pode-se afirmar que a variação da Necessidade de Capital de Giro – NCG entre 2005 e 2006 alcançou, em reais, o montante de

- a) 45.000,00
- b) 95.000,00
- c) 215.000,00
- d) 260.000,00

QUESTÃO 23

Para a elaboração do orçamento de caixa, o elemento fundamental é(são)

- a) o plano de produção.
- b) a previsão dos gastos de capitais.
- c) a previsão de vendas da empresa.
- d) a determinação das metas organizacionais de longo prazo.

QUESTÃO 24

A Cia. América S/A vendeu, no exercício de 2006, o montante de R\$15.000.000,00, sendo 40% à vista e o restante a prazo, em média, com 30 dias para quitação de suas duplicatas. As projeções para o exercício de 2007 estão considerando um aumento no prazo para 45 dias, o que deverá aumentar as vendas totais em 10%, sendo mantido o mesmo valor em reais das vendas à vista. Considerando-se apenas as informações acima, o investimento marginal em Duplicatas a Receber que a empresa terá de fazer mensalmente, em reais, será de

- a) 562.500,00
- b) 750.000,00
- c) 900.000,00
- d) 1.312.500,00

QUESTÃO 25

O valor da rentabilidade mensal, a juros simples, que permite que um investimento de R\$ 1.000,00 se transforme em um montante de R\$ 1.250,00 num prazo de 20 meses é

- a) 2,5% ao mês.
- b) 2,0% ao mês.
- c) 1,55% ao mês.
- d) 1,25% ao mês.

QUESTÃO 26

Qual o órgão internacional e independente que, atualmente, estuda os padrões contábeis mundiais, visando a estabelecer uma harmonização de procedimentos válida para os países membros?

- a) FASB – Financial Accounting Standards Board.
- b) IOSCO – International of Securities Comiission.
- c) IASB – International Accounting Standards Board.
- d) IFAC – International Federation of Accountants.

QUESTÃO 27

Comissão Mundial sobre o Meio Ambiente e Desenvolvimento (WCED) adota a seguinte definição: “o desenvolvimento que satisfaz as necessidades do presente sem comprometer as habilidades das futuras gerações de satisfazerem suas necessidades”. Com tal definição o aludido órgão está apresentando o conceito de

- a) crescimento sustentável.
- b) desenvolvimento sustentável.
- c) indústria sustentável.
- d) impacto ambiental.

QUESTÃO 28

Um aplicador depositou, num determinado fundo, um valor inicial de R\$ 2.000,00. O valor acumulado, em reais, ao final de 24 meses, considerando juros compostos de 1% ao mês, será

- a) 2.437,53
- b) 2.465,86
- c) 2.539,47
- d) 2.546,68

QUESTÃO 29

Dentre as opções abaixo, assinale a que caracteriza uma vantagem, já identificada e reconhecida, da adoção da harmonização das normas internacionais de contabilidade para as empresas sediadas nos países que as adotam.

- a) As barreiras de nacionalismo exacerbado deverão ser vencidas pelos órgãos internos de contabilidade desses países, que precisarão exercer o poder de determinação para implantação das normas.
- b) Em países com forte legislação trabalhista protecionista, precisará ser efetivada a harmonização dos currículos básicos dos cursos de ciências contábeis com o processo de credenciamento de contadores e auditores para atuação em outros países.
- c) Em países fortemente legalistas, a harmonização contábil passa também pela mudança do sistema legal, sendo retirada do governo a autoridade de emitir normas contábeis.
- d) Em países que não possuem padrão próprio de sistemas contábeis, estrutura legal ou organismos profissionais atuantes, a implementação das normas internacionais torna-se mais fácil, em vista de existirem poucos ajustes a serem realizados.

QUESTÃO 30

A Cia. Milenium S/A utiliza a Alavancagem Financeira. Para isso fez a seguinte análise:

Ativo	2006 (R\$)
Ativo circulante	136.000,00
Realizável longo prazo	35.000,00
Ativo permanente	150.000,00
ATIVO TOTAL	320.000,00
Passivo	2006 (R\$)
Passivo de funcionamento	40.000,00
Passivo Financeiro	80.000,00
Patrimônio Líquido	200.000,00
PASSIVO TOTAL	320.000,00

Considerando-se que a empresa está aprimorando os conceitos de taxa de retorno, com os dados acima pode-se afirmar que o Passivo Remunerado da empresa, em reais, é

- a) 40.000,00
- b) 80.000,00
- c) 120.000,00
- d) 280.000,00