

Prefeitura Municipal de BOMBINHAS - SC
Processo Seletivo Simplificado 003/2014

PROVA DE TREINADOR DESPORTIVO

INSTRUÇÕES

1. Aguarde autorização para abrir o caderno de provas.
2. Escreva, abaixo, seu número de inscrição.
3. A interpretação das questões é parte do processo de avaliação, não sendo permitidas perguntas aos Aplicadores de Prova.
4. Nesta prova, as questões são de *Múltipla Escolha* com quatro alternativas cada uma, das quais somente uma é a correta.
5. Ao receber o cartão-resposta, examine, e assine-o.
6. Transcreva para o cartão-resposta o resultado que julgar correto em cada questão, preenchendo completamente o espaço correspondente, à caneta com tinta azul-escura ou preta.
7. No cartão-resposta, marcação de mais de uma alternativa em uma mesma questão, rasuras e preenchimento além dos limites do espaço destinado para cada marcação, anularão a questão.
8. Não haverá substituição do cartão-resposta por erro de preenchimento.
9. Não serão permitidas consultas, empréstimos e comunicação entre candidatos, bem como o uso de livros, apontamentos e equipamentos eletrônicos. O não cumprimento dessas exigências implicará a exclusão do candidato.
10. Ao concluir a prova, permaneça em seu lugar e comunique ao fiscal. Aguarde autorização para devolver o cartão-resposta.
11. O tempo para o preenchimento do cartão-resposta está contido na duração desta prova.

DURAÇÃO DESTA PROVA: 3 HORAS

Língua
Portuguesa

Matemática

**Conhecimentos
Gerais**

**Conhecimentos
Específicos**

NÚMERO DE INSCRIÇÃO:

CRONOGRAMA PREVISTO

Atividade	Data	Local
Divulgação do Gabarito Provisório	16/06/2014	www.bombinhas.sc.gov.br e Mural da Prefeitura Municipal
Interposição de recursos ao Gabarito Provisório	17 e 18/06/2014	Protocolo da Prefeitura Municipal
Divulgação do Gabarito Oficial	23/06/2014	www.bombinhas.sc.gov.br e Mural da Prefeitura Municipal

Língua Portuguesa

TEXTO I - Responda as questões 1, 2 e 3 com base no texto abaixo:

O projeto “Música na Escola” visa desenvolver o gosto pela arte e a autoestima dos estudantes matriculados na Escola Básica Municipal Edith Willecke, no Bairro do Canto Grande. O projeto, iniciado em 2013, hoje atende a 110 estudantes de 6º ao 9º anos, do Ensino Fundamental. Em 2014, com o incentivo da Secretaria de Educação, foram comprados vários instrumentos musicais como flauta doce, violão e instrumentos de percussão.

(Fonte: Site da Prefeitura Municipal de Bombinhas, acesso em 15 junho de 2014, adaptado)

QUESTÃO 1

Segundo o texto o podemos inferir que é:

- a) O Objetivo texto é vender vagas nos cursos de música que são objeto do projeto.
- b) Que os 110 estudantes que participam do projeto podem ter aumentada sua autoestima.
- c) Que a Secretaria de Educação apoiou o projeto ao comprar os instrumentos em 2013.
- d) Que os todos os estudantes do Ensino Fundamental são beneficiados no Projeto.

QUESTÃO 2

Segundo o Texto I podemos afirmar que:

- a) Somente que adquire o gosto pela arte pode ter autoestima.
- b) Que o projeto atende a estudantes de várias escolas.
- c) A professora Edith Willecke é a autora do Projeto Música na Escola.
- d) Que os citados são alguns exemplos e pode-se inferir, pelo texto, que outros também foram comprados.

QUESTÃO 3

A Função da linguagem presente no texto I é

- a) conativa
- b) emotiva
- c) referencial
- d) poética

TEXTO II - Responda as questões 4 e 5 com base no texto abaixo:

Neste ambiente você terá acesso aos dados e informações decorrentes da gestão municipal, de forma clara, objetiva e simplificada. Além de navegar pelas informações já apresentadas, também é possível solicitar aquelas que desejar. (Fonte: Site da Prefeitura de Bombinhas, Portal da Transparência acesso em 15 junho de 2014, adaptado



QUESTÃO 4

O texto acima mostra a entrada do site de internet do Portal da Transparência da Prefeitura de Bombinhas. Depois de ler o texto e ver a foto podemos afirmar que:

- a) Que a gestão municipal deseja mostrar suas contas para serem fiscalizadas por todos os cidadãos.
- b) Que a mensagem diz que o site aumenta as letras da tela.
- c) A palavra transparência neste texto assume o significado de translucido.
- d) Que a transparência pública é ruim pois dificulta a gestão administrativa

QUESTÃO 5

Na frase “**Além** de navegar pelas informações já apresentadas, **também** é possível solicitar aquelas [informações] que desejar”, as palavras ALÉM e TAMBÉM dão a entender que:

- a) Somente é possível navegar pelas informações se pedir autorização.
- b) São termos restritivos e indicam condição de causa e consequência
- c) São termos aditivos que dão liberdade de decisão nas ações de navegar e solicitar
- d) O site não possui acessibilidade de informação.

QUESTÃO 6

As palavras da expressão TRANSPARÊNCIA PÚBLICA tem como regras de acentuação, respectivamente:

- a) Proparoxítona e Proparoxítona.
- b) Oxítona terminada em ditongo crescente e paroxitona 8 sílabas.
- c) Paroxítona e Proparoxítona 7 sílabas.
- d) Paroxítonas termina das em vogal

Responda as questões 7, 8 e 9 com base no texto e na foto abaixo



Bombinhas é um município do litoral de Santa Catarina, segundo estado mais procurado por estrangeiros. Com águas calmas e transparentes, Bombinhas, está entre os destinos mais belos do país. É a capital do mergulho ecológico e abriga grande diversidade de fauna e flora, lindas ilhas e praias em contraste com o verde da Mata Atlântica. (Fonte: Site da Prefeitura de Bombinhas, O Município - acesso em 15 junho de 2014, adaptado)

QUESTÃO 7

A foto e o texto mostrado acima tem como tema principal:

- a) Exaltar as belezas da cidade e incentivar o turismo no município.
- b) O Grande acesso de Argentinos no município
- c) A necessidade de se organizar um turismo ecológico que preserve a fauna e a flora
- d) Os problemas causado pelo desmatamento feito pelos turistas.

QUESTÃO 8

Leia as Frases:

- I. Segundo o autor a cidade é linda.
- II. Não podemos esperar mais nenhum segundo
- III. Bombinhas é um município do litoral de Santa Catarina, segundo estado mais procurado por estrangeiros.

A palavras **SEGUNDO** aparece com diferentes significados nas frases descritas representa um número ordinal:

- a) I.
- b) II.
- c) III.
- d) I e III

QUESTÃO 9

“Achar a vida leve.” Respectivamente, as palavras que compõe essa sentença são:

- a) verbo – artigo definido – substantivo - adjetivo
- b) verbo – artigo indefinido – substantivo - adjetivo
- c) verbo – artigo indefinido – adjetivo - substantivo
- d) verbo – artigo definido – adjetivo - substantivo

QUESTÃO 10

Um amigo de meu filho disse-lhe que se mudou para perto de um centro comercial. Aí ele falou que estava muito feliz com sua nova vida.

O texto acima encontra-se no:

- a) discurso indireto.
- b) discurso direto.
- c) discurso semi-indireto e direto.
- d) discurso direto e indireto.

MATEMÁTICA

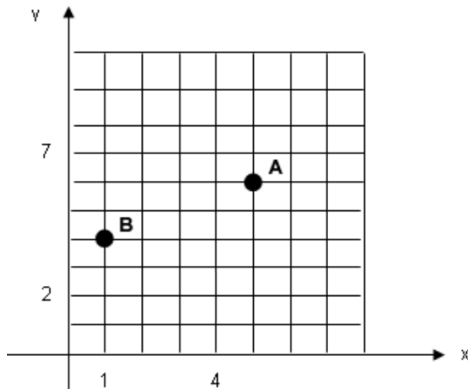
QUESTÃO 11

Durante medição topográfica uma equipe obteve os comprimentos $AO = 8\text{m}$ e $BO = 6\text{m}$. Sabendo que AOB é um ângulo reto o seguimento de reta AB , em metros, é de

- a) 18m
- b) 14m
- c) 10m
- d) 08m

QUESTÃO 12

Observe a figura e assinale a alternativa que indica as coordenadas que representam os pontos A e B do gráfico respectivamente:



- a) (6,5) e (4,2)
- b) (6,5) e (4,1)
- c) (5,6) e (1,4)
- d) (1,4) e (5,6)

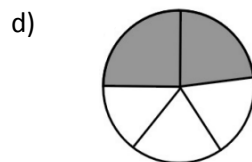
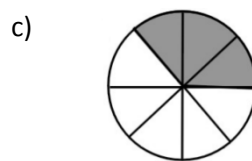
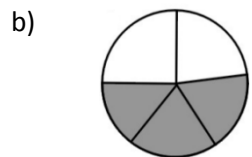
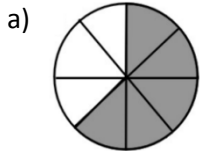
QUESTÃO 13

Sabendo-se que a precisão mínima para a escala 1:500 é igual a 0,1 m, é CORRETO afirmar que a precisão mínima para a escala 1:10000 é igual a

- a) 2,0 m
- b) 1,2 m
- c) 0,8 m
- d) 2,2 m

QUESTÃO 14

Nas imagens a seguir, as áreas escuras são partes tiradas do inteiro. Assinale a alternativa que apresenta a parte escura equivalente a $\frac{3}{5}$ tirados do inteiro

**QUESTÃO 15**

Ao comprar um equipamento eletrônico que custava R\$ 270,00, consegui um desconto de R\$ 21,60. A taxa percentual do desconto foi de:

- a) 6%
- b) 6,5%
- c) 7,25%
- d) 8%

CONHECIMENTOS GERAIS

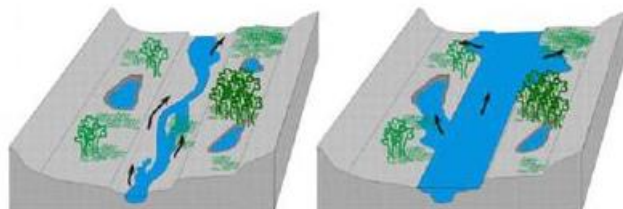
QUESTÃO 16

A história da Copa do Mundo de Futebol da FIFA se iniciou em 1928, durante um congresso da entidade, quando Jules Rimet conseguiu a aprovação para criar um torneio internacional. A primeira competição ocorreu em 1930, tendo a participação de 13 equipes convidadas, tendo o Uruguai como país sede e como campeão. Em 2014 o país sede da Copa do Mundo é o Brasil, localizado na América do Sul. Assinale a alternativa que apresenta outros 3 países que também estão localizados na América do Sul:

- a) Paraguai, China, Equador
- b) Peru, Bolívia, México
- c) Colômbia, Cuba, Venezuela
- d) Bolívia, Argentina, Equador

QUESTÃO 17

São diversos os fenômenos naturais que podem ser intensificados pela ação humana. Um desses fenômenos é a enchente, que passou a ser algo comum em cidades do Brasil. Existem rios, denominados intermitentes, que apresentam como característica a manutenção de água corrente durante todo o período do ano, variando apenas em seu volume de água. Esses rios costumam apresentar dois tipos de leito: um principal (menos volume de água) e um complementar (inundado apenas em período de cheia).



Leito principal

Leito complementar

Eventualmente o nível da água pode ultrapassar o leito complementar provocando as enchentes. O período em que isso ocorre varia de rio para rio. Algumas das causas que provocam enchentes e está relacionada à ação do homem são:

- a) ocupação irregular do espaço geográfico, ineficiência da coleta de lixo, problemas no sistema de drenagem de água.
- b) Muito calor no verão.
- c) Reflorestamento das matas.
- d) Pesca predatória

QUESTÃO 18

A tainha passa a maior parte do seu ciclo de vida dentro de lagoas estuarinas, migrando posteriormente para o mar formando grandes cardumes. Esta migração ocorre na época reprodutiva da espécie, e é principalmente neste momento que ela serve de alimento para várias espécies marinhas, inclusive para o homem. Desta forma, além de ser um importante recurso pesqueiro marinho, sazonal, possui importância para os pescadores artesanais dentro de lagoas, rios e estuários ao longo de todo o ano. Conhecer bem as características comportamentais do processo migratório da espécie é de extrema importância para traçar um plano manejo dos estoques para as grandes safras. Diante disso, assinale a alternativa que apresenta o período de ocorrência da espécie em maior quantidade no litoral sul brasileiro.

- a) Janeiro a Abril
- b) Outubro a Janeiro
- c) Maio a Agosto
- d) Dezembro a Março

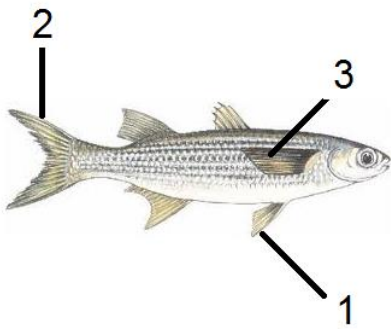
QUESTÃO 19

Com uma região litorânea ampla, Santa Catarina possui diversos pratos típicos baseados no consumo de frutos do mar. Além disso, seus pratos são influenciados pela colonização dos portugueses que consumiam esse tipo de alimento e preparavam em caldos e ensopados. Os peixes também são bastante consumidos pelos moradores e os frutos do mar mais admirados e consumidos são a lagosta, o camarão, as ostras e os mariscos. Já a influência dos alemães, que chegaram à região, foi a de introduzir outros ingredientes, como a carne de porco na cerveja e carne de marreco. Assinale a alternativa que apresenta comidas típicas da Região Sul do País.

- a) Tacacá, Pato no Tucupi, Angu
- b) Acarajé, Tapioca, Mungunzá
- c) Paçoca, Buchada de bode, Feijão Verde
- d) Chimarrão, Churrasco, Tainha

QUESTÃO 20

As **barbatanas** ou **nadadeiras** são estruturas externas que muitos animais aquáticos possuem para auxiliar na natação e equilíbrio. O termo mais correto utilizado é nadadeira, podendo um peixe, por exemplo, apresentar um par de nadadeiras peitorais, um par de nadadeiras pélvicas, uma nadadeira anal, nadadeiras dorsais e a nadadeira caudal. Assinale a alternativa que apresenta a sequência correta das estruturas indicadas na imagem a seguir.



- a) 1- lateral, 2- caudal, 3- pélvica
- b) 1- caudal, 2- lateral, 3- peitoral
- c) 1- pélvica, 2- caudal, 3- lateral
- d) 1- lateral, 2- caudal, 3- lateral

CONHECIMENTOS ESPECÍFICOS

QUESTÃO 21

Analise as afirmativas sobre o líbero no voleibol e assinale a alternativa correspondente.

- I- Não pode ser o capitão da equipe, nem o capitão em jogo.
- II- Está autorizado a substituir qualquer jogador posicionado na linha de trás.
- III- Trocas envolvendo o líbero são contadas como regulares.

- a) Somente a afirmativa I está correta.
- b) Somente as afirmativas II e III estão corretas.
- c) Somente as afirmativas I e III estão corretas.
- d) Somente as afirmativas I e II estão corretas.

QUESTÃO 22

De acordo com as regras oficiais de basquetebol, adotadas pela FIBA (Federação Internacional de Basquete), é ERRADO afirmar sobre o tempo de jogo, o placar empatado e os períodos extras

- a) se o placar estiver empatado ao final do tempo de jogo do quarto período, o jogo continuará com tantos períodos extras de três (3) minutos quantos necessários para desfazer o empate.
- b) se uma falta é cometida no instante em que, ou imediatamente antes do sinal do cronômetro da partida soar para o fim do tempo de jogo, qualquer lance livre eventual será administrado após o final do tempo de jogo.
- c) existirão intervalos de jogo de dois (2) minutos entre o primeiro e o segundo período (primeira metade), entre o terceiro e o quarto período (segunda metade) e antes de cada período extra.
- d) o jogo consistirá de quatro (4) períodos de dez (10) minutos.

QUESTÃO 23

Analise as afirmativas sobre o brincar e o jogar e assinale a alternativa correspondente.

- I- São atos indispensáveis à saúde física, emocional e intelectual e sempre estiveram presentes em qualquer povo, desde os mais remotos tempos.
- II- Através deles, a criança desenvolve a linguagem, o pensamento, a socialização, a iniciativa e a autoestima.
- III- A criança necessita apenas brincar, pois jogar, nessa idade, cria uma ideia de passatempo e não desenvolve as faculdades intelectuais.

- a) Somente a afirmativa I está correta.
- b) Somente as afirmativas II e III estão corretas.
- c) Somente as afirmativas I e III estão corretas.
- d) Somente as afirmativas I e II estão corretas.

QUESTÃO 24

A prova de 100 metros rasos é uma modalidade olímpica de atletismo, considerada a prova rainha das corridas de velocidade. Dura pouco menos de 10 segundos. Um atleta dá 45 passadas em média para percorrer o percurso e cruza a linha de chegada a cerca de 36 km/h. No caso de uma chegada embolada, para determinar o vitorioso, os juízes observarão:

- a) os ombros ou o torso dos atletas.
- b) as pernas dos atletas.
- c) os braços dos atletas.
- d) a cabeça dos atletas.

QUESTÃO 25

O decatlo é uma competição que reúne dez provas do atletismo e pode ser disputada apenas por homens. Assinale a alternativa que NÃO apresenta uma dessas dez provas.

- a) Corrida dos 100 m.
- b) Corrida de 400 m com barreiras.
- c) Salto em distância.
- d) Salto em altura.

QUESTÃO 26

Numa prova de revezamento de 4 x 100 metros do atletismo, uma equipe formada por quatro atletas deve percorrer 400 m (100 m cada atleta), sendo que ao fim de sua participação o competidor deve passar um bastão para o seu companheiro. Essa troca pode ocorrer em um espaço limitado de 20 m. Caso ultrapasse essa marca, a equipe poderá ser desclassificada. Caso o bastão caia na troca, o que acontece?

- a) A equipe será desclassificada.
- b) Somente aquele que irá começar a sua corrida poderá pegá-lo e a prova seguirá normalmente para a equipe.
- c) Somente aquele que concluiu a sua corrida poderá pegá-lo, passá-lo ao outro corredor e a prova seguirá normalmente para a equipe.
- d) O corredor que encerraria sua parte na corrida terá de fazer, também, o trecho daquele que não recebeu o bastão e a prova seguirá normalmente para a equipe.

QUESTÃO 27

Para que os estudantes e a própria sociedade compreendam o momento atual da Educação Física, é necessário considerar suas origens no contexto brasileiro, abordando as principais influências que marcam e caracterizam essa disciplina e os novos rumos que estão se delineando. Sobre as bases históricas, culturais e científicas da Educação Física e a sua inserção nos currículos escolares, analise as afirmativas e assinale a alternativa correspondente.

- I- No século passado, a Educação Física esteve muito vinculada às instituições militares e à classe médica.
- II- Na década de 80, a Educação Física escolar passou a priorizar o segmento da primeira à quarta séries e também a pré-escola, pois até esse momento estava voltada, principalmente, para a escolaridade da quinta à oitava séries do primeiro grau.
- III- No decorrer da história, a Educação Física passa de simples fortalecimento físico para assumir um papel de introduzir e integrar o educando na cultura corporal de movimento (afetivo, social, cognitivo e motor).

- a) Apenas as afirmativas II e III estão corretas.
- b) Apenas a afirmativa III está correta.
- c) Apenas a afirmativa II está correta.
- d) Todas as afirmativas estão corretas.

QUESTÃO 28

Analise as afirmativas sobre escala de punição no voleibol e assinale a alternativa correspondente.

I- De acordo com o julgamento do primeiro árbitro e, dependendo da seriedade da falta, as punições a serem aplicadas e registradas na súmula são penalidade, expulsão ou desqualificação.

II- Na penalidade, a primeira conduta rude na partida por qualquer membro da equipe é punida com um ponto e saque para o adversário.

III- Um membro da equipe que é punido com expulsão não jogará pelo resto do jogo e deve permanecer sentado na área de penalidade, sem quaisquer outras consequências.

- a) Somente as afirmativas I e II estão corretas.
- b) Somente as afirmativas I e III estão corretas.
- c) Somente as afirmativas II e III estão corretas.
- d) Somente a afirmativa I está correta

QUESTÃO 29

No futsal é concedido às equipes disputantes, objetivando dar instruções aos atletas, o direito de solicitar o pedido máximo de 2 (dois) tempos técnicos, um em cada período da partida, sendo de 1 (um) minuto a duração de cada tempo solicitado. Sendo assim, assinale a alternativa INCORRETA. Assinale-a.

- a) Os técnicos ou treinadores das equipes deverão solicitar o tempo ao cronometrista e, na ausência ou falta deste, solicitarão ao anotador.
- b) Os pedidos de tempos somente serão concedidos quando a bola estiver em jogo, e a favor da equipe adversária.
- c) Os capitães das equipes deverão solicitar o tempo técnico a um dos árbitros.
- d) Se uma equipe não solicitar tempo técnico no primeiro período da partida, não poderá acumulá-lo para ser usado no segundo período.

QUESTÃO 30

A Educação Física enquanto prática pedagógica tem por função desenvolver o educando em seus aspectos psicomotor, afetivo-social, cognitivo, além de conscientizá-lo a procurar por hábitos saudáveis, favorecendo a saúde durante toda vida. Quanto à promoção da saúde Qual das alternativas a seguir apresenta uma atitude INCORRETA?

- a) A realização da avaliação antropométrica, da coordenação motora e a aplicação do questionário IPAQ, com o intuito de avaliar o nível de aptidão física relacionada à saúde e de atividade física e a coordenação motora, para planejar as aulas de educação física a partir desses resultados.
- b) Propiciar palestras e debates sobre a promoção da saúde, atividades físicas, alimentação saudável, não uso de álcool e fumo, entre outros, a fim de conscientizá-los sobre boas práticas.
- c) Projetos sobre atividade física, alimentação saudável, postura, entre outros, citando-lhes sempre um exemplo de obesidade e de sedentarismo entre os estudantes, para servir de exemplo.
- d) A promoção de experiências motoras que proporcionem repercussão satisfatória em direção a um melhor estado de saúde, afastando ao máximo a possibilidade de aparecimento dos fatores de risco de eventuais distúrbios orgânicos.